



وەلامی راست هەلبژێرە:

(بۆ هەر پرسیارێک دوو نمرە)

1. نەو هەواویە لە سیبەکان دیتە دەروە راستە و خۆ پیش نەوێ بچیتە بۆری هەوا تیدە پەڕیت بە:

A- قورگ B- بۆرێچکەکانی هەوا C- سیکلدا نوچکەکانی هەوا D- دوولقە بۆری هەوا

2. کام لەم جووتانەی خوارووە هە ئەیه؟

A- تەوهری مایلینی: ماددەى خۆلەمیشی درکە پەتک

C- تەوهرە بى مایلینەکان: ماددەى سپى مېشک

B- لق و پۆپ: ماددەى سپى مېشک

D- هەموو وەلامەکان هەلەن

3. کام لە مانە راستە و خۆ دەبیته هۆی گۆران لە پیدارۆیشتنی پەردەى خانەى دواى گەبیئکە لە ریگەى کارتیگردن لە جوگە نایۆنەکاندا لە کاتی گواستنهوێ دەمارە راگەیانندن لە گەبیئکە دەماردا؟

A- گەیشتنی نەرکی کار بۆ دەمارە کوتاییهکان

C- بەستنهوێ نیوان دەمارە گۆیزەرەوکان و گەردە وەرگرەکان

B- بەرەلابوونی دەمارە گۆیزەرەوکان لە ناو گبیئکە قلیشدا

D- لکانی گەبیئکە چیکلدا نەکان بە پەردەى پیش گەبیئکەو

4. رووی لیکچوون لە نیوان مۆخی زەردی نیسک و مۆخی سووری نیسک نەوێه کە هەردووکیان؟

A- لە نیسکی درێژدا هەن B- لە خانەى چەوری پیکدین C- خانەکانی خوین دروستدەکن D- لە نیسکی نیسفه نجیدا هەن

5. بوونی کۆکایین لە گەبیئکە قلیش دووبارە مژینەوێ دۆ پامین دەووستینیت چونکە کۆکایین کاردەکاتە سەر کاری :-

A- وەرگرەکانی دووبارە لە پەردەى دەمارە خانەى پاش گەبیئکەدا B- وەرگرەکانی دووبارە لە پەردەى دەمارە خانەى پیش گەبیئکەدا

C- وەرگرەکانی پرتوتینی لە پەردەى دەمارە خانەى پاش گەبیئکەدا D- جوگەکانی نایۆنی سویدیۆم لە پەردەى دەمارە خانەى پاش گەبیئکەدا

6. کەسى ناوودەبوو لە ژەمی کوژەر نزیك دەبیتهو.

A- پیش بەرگە گرتن B- پیش پشت بەستن C- هەر کاتیگ ژەمی کارا زیاد بکات D- دواى دابران

7. کاتی مندالبوون کۆرپەلە بە..... دەروات کە هەردووکیان زۆر فراوان دەبن بۆ تییەربوونی کۆرپەلە.

A- ملی مندالندان و زیئا. B- جوگەى فالوب و زیئا. C- زى و میزەرپۆدا. D- ملی مندالندان و میزەرپۆدا

8. بە پشت بەستن بەو خشتهیەى بەرامبەر کە ئە نجامی چەندلیکدانئیکى

تاگە دوورەگبوون دردهخات. لە هەر لیکدانئیکدا 100 تاک پەیدابوون،

لە کام لیکداندا دەکریت تەنھا یەکیک لە دوو باوانەکە دوورەگ بیئ؟

A- تەنھا 1

B- تەنھا 2

C- 1 و 2

D- 2 و 3

9. کام لەمانە تاکی دوورەگی هەیه؟

A- کەرویشکی قاوویی B- رووکی پۆلکەى گۆل لووتکەیی C- رووکی پۆلکەى کە لوو زەرد D- هەموو وەلامەکان هەلەن

10. ئە کرداری دروست بوونی نیسکی کام لەمانەى خواروودا نیسکە خانەکان پەرش و بلاو دەبن بە شیوێ هەرمەمکی لە بەستەرە شانەى کۆرپەلەدا، بەلام نەم نیسکە خانانە زۆر بەخیرایى بە شیوێ چینهکان یەگدەگرن بۆ نەوێ ببنە پەردەى تەخت بوو لە نیسکدا:-

A- نەو نیسکانەى بەشیوێ رەق دروست دەبن بى نەوێ لە سەرەتادا بە قوناعی کرکراگەیی تییەر ببن B- لە هەموو جوورە نیسکیکدا

C- نەو نیسکانەى لە سەرەتادا بە قوناعی کرکراگەیی تییەر دەبن D- تەنھا لە نیسکەکانی پەلە پەیکەردا

11. ریشالەکانی لووسە ماسولکە جیاوازن لە ریشالەکانی پەیکەرە ماسولکە بەوێ کە ریشالەکانی لووسە ماسولکە:-

A- بە بەستەرە شانە دەورە نەدراون B- بە بەستەرە شانە یەک دەورە دراون کە یەگدەگرن بۆ پیکهینانی ژییەکان

C- بە بەستەرە شانە یەک دەورە دراون کە یەکنانگرن بۆ پیکهینانی ژییەکان D- ناووکی زۆریان تییادیه

12. کام لەو هۆرمۆنانەى خوارووە لە ستیروئیدە هۆرمۆنەکانە و توانای توانەوێ هەیه لە چەوریدا؟

A- تاییروکسین B- تاییروئینی سیانە یۆدی C- کۆرتیزۆل D- هەموو وەلامەکان راستن

13. کام لە ئەمانە دەربارەى دژە پەیداکەرەکان راستە:-

A- ماددەیهکە لەش وریا دەکاتەووە بۆ بەررەمەینانی دژە تەنیگ بۆی B- دژە پەیداکەرەکان کە بە سروشتی لە لەشدا هەن هانی هیچ وەلامدانەوێهەک نادەن

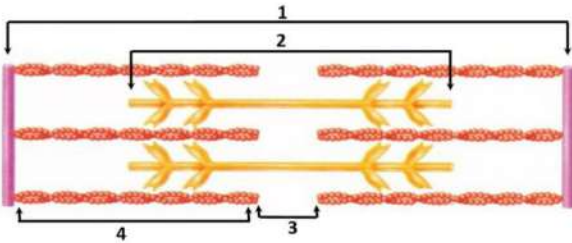
C- هۆکارەکانی نەخۆشی یان بەشەکانیان و، ژەهری بەکتریا و، ژەهری میروووەکان و، دەنکەهەلآله لە جوورەکانی دژە پەیداکەرەن

D- هەموویان راستن

14. جووگەى..... دەتوانیت بال بە سوڕیکى تەواو بسوڕینیتهووە A- تەوهری B- ریزهیی C- گۆیی D- خلیسک

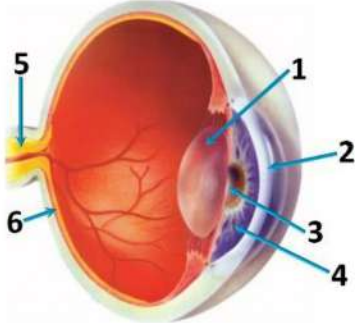
لیکدان	ژمارەى ئەو تاکانەى روخسارى زال دردهخەن	ژمارەى ئەو تاکانەى روخسارى بەزیو دردهخەن
1	74	26
2	51	49
3	100	0

15. ئەم شېۋەيەي بەرامبەردا كام رەنوس ناماژە بۇ ئەو ناوچەيە دەكات كە ئەكاتى گىرژىۋونى تەۋاۋى پەيكەرە ماسولكە ديارنامىنىت (وون دەبىت)؟



- 1-A
- 2-B
- 3-C
- 4-D

16. بە پشت بەستن بەو شېۋەيەي بەرامبەر وەلامى راست ئەو خشتەيەي خواروۋە ھە ئېژىرە:-



كام پېكھاتە لىگەل ئەو ماسولكانەي پېۋەي بەندن وا دەكات كە تىشكى رۇشنايى ھاتوو بۇ ناو چاۋ بىشكىتەۋە؟	ئەو پېكھاتانەي كە رۇشنايى پېدا تىيەر دەبىت	چىنىكى پارىژىرى روونە كە رۇشنايى بۇ يەكەم چار پېدا تىيەر دەبىت	مىليۇنان تەۋەردى ئەو دەمارەخانانەي لى چاۋ دەردەچن كام پېكھاتە پېكدىن؟
-A	3	4	6
-B	1	2	5
-C	3	4	6
-D	1	2	5


17. روۋەكەكانى پۆلكە ناسايى ئە رىيى.....زۆردەين ، مەندل تۋانى رىگە ئەم جۆرە پەرىنە بىگىرىت بە لا بىردى.....گۈلەكانى روۋەكىكى ديارىكراۋ:- A- پەرىنى خۇيى ، كۆسپى B- پەرىنى خۇيى ، پۇرگى C- تىكە ئە پەرىن ، كۆسپى D- تىكە ئە پەرىن ، پۇرگى

18. خانە توۋشبوۋەكان بە نە خۇشى دەناسرىنەۋە ئە لايەن خانەكانى آى ژەھراۋى چۈنكە.....لەسەر روۋى خانەكانى آى ژەھراۋى ھەيە كە تەۋاۋكەرن بۇ ئەو.....كە ئە سەر خانە توۋشبوۋەكان بە نە خۇشى ھەيە.

- A- ۋەرگىرىيە پىرۇتىنىيەكان ، دژە پەيداكارانەي.
- B- دژە پەيداكارە قايرۇسىيەكان ، ۋەرگىرى پىرۇتىنىيەكانى
- C- دژە پەيداكارە قايرۇسىيەكان ، دژە پەيداكارانەي
- D- ۋەرگىرى پىرۇتىنىيەكان ، ۋەرگىرى پىرۇتىنىيەكانى

19. موۋە خانەكان دەكەۋنە ناو:-

20. ئە كام كىردارى گۋاستنەۋى خۇيى خواروۋەدا دەشىت كارلىك ئە نيۋان دژە پەيداكارى Rh و دژەتەن بۇ Rh روۋىدات؟



21. ئە بارى ناسايى (بە زۆرى) بەرگىرىيە كۆنەندام بە لامارى خانەكانى لەشى خۇي نادات. ئە بەرئەۋەي ئەو لىمفە خانانەي لەش كە خانەكانى لەشى خۇيان دەناسنەۋە كارلىكىيان ئەگە ئەدا دەكەن:-

- A- لانابرىن پېش گەشەكردىنيان
- B- ئە مۇخى ئېسكەۋە دروست نابن
- C- لادەبىردىن پېش گەشەكردىنيان
- D- لەش دژە تەن دروست دەكات بۇ لەناۋبىردىنيان

22. مىزەرۇ جۇگەيەكە كە:-

A- مىز و تۆۋەخانەكان بە ناۋىدا دەروات و لەشى نېرە بە جىدىلىت ئە ھەمان كاتدا B- تەنھا مىز بە ناۋىدا دەروات و لەشى نېرە بە جىدىلىت

23. كام ئەمانە دەربارى سېل راست نىيە؟ A- گەۋرەترىن لىمفە ئەندامە. B- ھۆكارەكانى نە خۇشى ئە لىمف كۆدەكاتەۋە C- لىمفە خانەكانى تىدا ھەيە D- (C + B)-D ھەردووكىيان راستن

24. ھۆرمۈنى دەپ پەراندىنى ھاندەرى ئايرۇيدە رژىن و ھۆرمۈنى ھاندەرى ئايرۇيدە رژىن ھەردووكىيان :-

- A- ئە ھەمان كۆپرە رژىنەۋە دەردەدرين
- B- ھەمان خانەي ناما نىجان ھەيە
- C- ئە رىگەي پەرچە پېدانەۋەي نەرىنى خەستى ھۆرمۈنەكانى ئايرۇيدە رژىن ئە خۇيىدا رىكەدەخەن
- D- ھەموۋىيان راستن

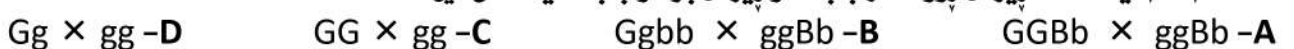
25. بىرخەرۋە خانەكان يەكەم چار دروست دەبن ئە:-

A- ۋەلامدانەۋە بەرگىرىيەكانى سەرەتايى B- ۋەلامدانەۋە بەرگىرىيەكانى دوۋەي C- ۋەلامدانەۋەي ھەۋكردنەكان D- ۋەلامدانەۋەي گەرمى ئە ئەتتۇيس دروست دەبىت ئە ماۋى :-

27. كام ئەمانە دەربارى ھۆرمۈنى ئۆكسىتۇسېن راستە؟ A- سىيەكى يەكەم ئە سىپرى B- سىيەكى دوۋەم ئە سىپرى C- سىيەكى سىيەم ئە سىپرى D- دروستبۋونى ھىلكەدا

A- روژمىردىنى شىر ئە مەمك وريادەكاتەۋە ئە كاتى شىر پېدان B- ئە لايەن پلى دوۋەي ژىر مىشكە رژىن بەرھەمدەھىنرىت C- ھانى بەرھەمھىننى شىر ئە مەمكەكاندا دەدات ئە ماۋى شىر پېدانى مندان ... D- (B , A)-D ھەردووكىيان راستن

28. ئە كام ئەم لىكەدانە رىژەي روۋخسارەبابەت و رىژەي بۇماۋەبابەت يەكسان نىن؟



29. ھەممۇ ئەمانە بەشىكىن لە لىمفە كۆنەندام جگە لە :-

- A- موونولەي لىمف
B- ئەو لوولانەي تەنھا لىمف لە دئەو ھە بۇ شانەكان دەگوانەو ھە
C- لىمفەگرى
D- ئەو لوولانەي لىمف لە شانەكانەو ھە بۇ كلۆرە خوئىنھىنەرى سەروو دەگوانەو ھە

30. ئەو بەشەي دەماخە كە تىگەيشتنى بەركەوتنە راگە ياندنەكانى تىدايە .

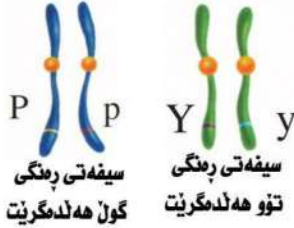
- A- لانك
B- لاكيشە موخ
C- مېشك
D- ناوەرەستە دەماخ
31. مووھەكانى لەشى مەوقف لە ھەستى بەركەوتندا بەشدارى دەكەن چونكە چەمانەو ھەي موو ژمارەيەكى زۆر لە وريادەكاتەو ھە كە دەكەونە بنكى لە پىستدا .
- A- گەرمىيە وەرگرەكان ، توپژ
B- كىمىيە وەرگرەكان ، توپژ
C- مىكانىكە وەرگرەكان ، سەلكى موو
D- كىمىيە وەرگرەكان ، سەلكى موو

32. رووى لىكچوون لە نىوان سىيە خوئىن بەرەكان و شاخوئىن بەر نەو ھەيە كە ھەردوو جۆرە لوولەكە :-

- A- دىوارىيان لە سى چىن پىكھاتووھ .
B- خوئىنى تىرئوكسىجىن بۇ دل دەگوانەو ھە .
C- خوئىنى تىرئوكسىجىن بۇ دوور لە دل دەگوانەو ھە
D- (C + A) ھەردوو كىيان راستن

33. بە پشت بەستن بەو شىوھەي بەرامبەر كە دوو جووت كرۇمۇسۆمى لىكچووى رووھكى پۆلكە

دەنوئىت، وەلامى راست لەمانەي خواروھە ھەلبىژىرە :-



A- ھەردوو ھۆكارى P و p لە يەكتر جىيانابنەو ھە كاتى دروستكردى گەمىتەكان

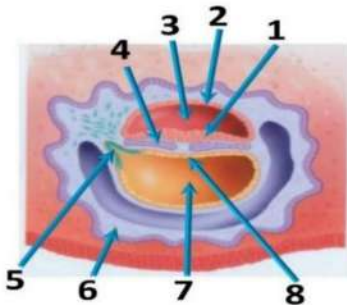
B- بۆمانەو ھەي سىفەتى رەنگى گول بە شىوھەيەكى سەربەخۇ دەبىت لە بۆمانەو ھەي سىفەتى رەنگى توو

C- ھەردوو ھۆكارى Y و y لە يەكتر جىيانابنەو ھە كاتى دروستكردى گەمىتەكان

D- ياساى دابەشكردى سەربەخۇ جىياناكرىت لەسەر ھەردوو بۆھىلى (p , P) و (y , Y)

34. ئەو شىوھەي بەرامبەردا ئەو رەنووسانە چىن كە نامازە بە

چىنەكانى خانە دروستكەرە يەكەمىيەكان دەكەن؟



A- 5 , 2 , 6

B- 8 , 4 , 1

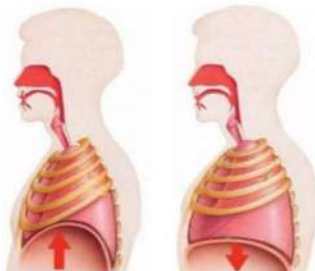
C- 2 , 7 , 4

D- 3 , 1 , 6

35. كام لەمانە نموونەيە بۇ تەواوكارى كۆنەندامەكان؟

- A- دابەشكردى خۇراكە ماددە پەيدا بووھەكان لە كۆنەندامى ھەرسدا بە ھۆي كۆنەندامى سورانەو بە جىدئىت
B- چالاكى كۆنەندامى سوران بەندە لەسەر خۇراكە ماددە ھاتووھەكانى كۆنەندامى ھەرس و ئوكسىجىنى ھاتوو لە كۆنەندامى ھەناسەو ھە
C- كوئىرە رژىنە كۆنەندام ھۆرمۆنەكان دەردەدەن كە چالاكى كۆنەندامى زۆربوون رىكەدەخەن
D- ھەموويان راستن

36. كام لەم ھەلبىژاردانەي خواروھە وەسفى ئەو دوو شىوھەي بەرامبەر بەتەواوى دەكات؟



شىوھى 1 شىوھى 2

ناو پەنچك	لە شىوھى 1 دا	لە شىوھى 2 دا
ماسولكەي پەراسووھەكان	خاودەبىت	گرژ دەبىت
سنگە كە لىن	گرژ دەبىن	خاودەبىن
	تەسك دەبىت	فراوان دەبىت

ناو پەنچك	لە شىوھى 1 دا	لە شىوھى 2 دا
ماسولكەي پەراسووھەكان	گرژ دەبىت	خاودەبىت
سنگە كە لىن	خاودەبىن	گرژ دەبىن
	فراوان دەبىت	تەسك دەبىت

37. ھەممۇ ئەمانە دەربارەي جەمسەرە تەنى يەكەم و جەمسەرە تەنى دووم ھەلەن جگە لەو ھەي كە ھەردوو كىيان خانەي :-

A- تاك كۆمەلەي كرۇمۇسۆمىن
B- لەناو جوگەي فالب پەيدا دەبىن
C- لەناو ھىلكەدان پەيدا دەبىن
D- جووت كۆمەلە كرۇمۇسۆمىن

38. لە زۆربەرزبوونەو ھەي خەستى ھۆرمۆنى ھاندەرى تەنى زەرد كە لە نىو ھەي سورى ھىلكەداندا روودەدات لى پەيدا دەبىت .

A- كەوتنە سەرخوئىن .
B- تەقىنەو ھەي چىكلدانەو دەرپەرىنى ھىلكە
C- چەقبن
D- چىكلدانە

39. لە جووتبوونى جووتە دوورەگبوندا (دوورەگ × دوورەگ) ژمارەي بۆماو ھەي جىياو ھەي پىششىنكىراو و ژمارەي روخسارە بابەتى

جىياو ھەي پىششىنكىراو برىتتىن لە :-
A- ئۆبۆماو ھەي بابەت و چوار روخسارە بابەت
B- چوار بۆماو ھەي بابەت و ئۆ روخسارە بابەت
C- چوار بۆماو ھەي بابەت و چوار روخسارە بابەت
D- ئۆبۆماو ھەي بابەت و ئۆ روخسارە بابەت

40. دەمارە پىتتىد و دەمارە گۆيزەرەو ھەردوو كىيان لە لايەن :-

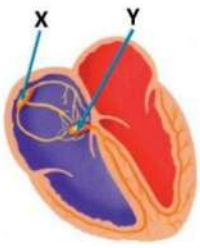
- A- كوئىرە رژىنەكانەو دەردەدرىن و وەكو ھۆرمۆنەكان پۆلئىن دەكرىن
B- دەمارە كۆنەندامەو دەردەدرىن و وەكو ھۆرمۆنەكان پۆلئىن دەكرىن
C- كوئىرە رژىنەكانەو دەردەدرىن و وەكو نىردراوى كىمىيائى كاردەكەن
D- دەمارە كۆنەندامەو دەردەدرىن و وەكو نىردراوى كىمىيائى كاردەكەن

41. له زالیوونی ته واوډا ، روخساره بابهت همیشه ناتوانیت بؤماوه بابهت بنوینیت چونکه :-

- A- روخساره بابهت به دوو نه لیل یان زیاتر کارلیکراو ده بیت
- B- له وانه یه هؤکاری ژینگه یی کاری له روخساره بابهت کرد بیت
- C- بؤماوه بابهت زالی یه کرهگ و بؤماوه بابهت زالی دوو رهگ هه مان روخساره بابهت یان هه یه
- D- (C + B) ههردووکیان راستن

42. کام له مانه نمونده نییه بؤ به سته ره شانه ؟

- A- خوین
- B- چینی دهره وه له پیکهاته ی نووله کانی خویندا
- C- نهو شانه یه ی ناو پووشی بؤری هه وا دهکات
- D- چه وریبه شانه



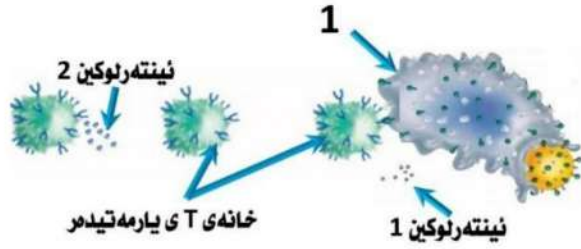
43. به پشت بهستن بهم شیوه یه ی به رامبه ر ههردوو پیکهاته ی (X و Y) :

- A- دوو ناوچه شانه ی تاییه تمهندن که هه ر یه کیکیان به گری ناوده بریت
- B- بییان دهره بریت هه نگاو دروستکه ر
- C- له هه ر 0.8 چرکه یه ک ته زوویه کی کاره بایي دهره په رین و ده بنه هؤی گرژبوونی ههردوو گوچکه له
- D- (B , A) ههردووکیان راستن

44. ههردوو گون به ره مدینن .

- A- تووهکان
 - B- توخمه هورمونه کان
 - C- نهو شانه ی خوراک به تووهکان ددهن و ده یانپاریزن .
 - D- (B + A) ههردووکیان راستن
45. کام له مانه دهره ی دهماره خانه راسته کاتیک له باری حه سانه ویه ؟
- A- خهستی نایونه کانی پوتاسیوم K^+ به رزترده بن له ناوه وه ی خانه که وهک له دهره وه ی خانه که .
 - B- خهستی نایونه کانی پوتاسیوم K^+ به رزترده بن له دهره وه ی خانه که وهک له ناوه وه ی خانه که .
 - C- خهستی پروتینه بارگه نیگه تیقه کان به رزترده بن له دهره وه ی خانه که وهک له ناوه وه ی خانه که
 - D- خهستی نایونه کانی سدیم Na^+ به رزترده بن له ناوه وه ی خانه که وهک له دهره وه ی خانه که

46. لهم شیوه یه ی به رامبه ر هه موو نه مانه ی خواره وه دهره ی نهو



- A- خانه یه ی که به ژماره 1 ناماژی پیکراوه راستن جگه له
 - B- دژه په یداکه رهکان له سه رروه که ی دهره خات
 - C- به هؤی نینتەر لوکینی 1 چالاک ده بیت
 - D- هؤکاره کانی نه خوشی قووت ددهت
47. نه سپرین و نه سیتامینوفین توندی نازاره کانی تالیهاتن که مده که نه وه له ری و هستاندن دهره یه یه :-
- A- پروستاگلاندینه کان
 - B- نیندورفینه کان
 - C- نینکیفالینه کان
 - D- هه موو وه لامه کان راستن

48. له کام لهم جووتبوونانه ی خواره وه رووه کی شه بوؤی گول په میه ی په یدا ده بیت ؟

- A- رووه کی شه بوؤی گول سوور × رووه کی شه بوؤی گول په میه ی
- B- رووه کی شه بوؤی گول سوور × رووه کی شه بوؤی گول په میه ی
- C- رووه کی شه بوؤی گول په میه ی × رووه کی شه بوؤی گول په میه ی
- D- هه موویان راستن

49. له رووه کی پۆلکه دا روخساری دریز (T) زاله به سه ر روخساری کورت (t) و روخساری توو لووس (R) زاله به سه ر روخساری توو چرچ (r) ، لیکنانیک له نیوان رووه کیکی پۆلکه ی قه د دریز توو لووس له گه ل رووه کیکی تری قه د کورتی توو چرچ نه نجامدرا له نه نجامدا رووه که په یدا بووه کان بؤ سیفه تی روه ی توو هه موویان توو لووس بوون و بؤ سیفه تی دریز قه د نیوه یان قه د دریز بوون و نیوه ی دیکه یان قه د کورت بوون کام له مانه بؤماوه بابهت ههردوو باوانه که دهنوینیت بؤ ههردوو سیفه ته کان به یه که وه ؟

- A- $ttr \times ttRr$
- B- $ttr \times TtRR$
- C- $ttr \times ttRR$
- D- $ttr \times TTRr$

50. سیستمی ته واوکار چالاک دهکات له وه لامدانه وه به رگریه کانی دهره یاندا .

- A- رووه رووبوونه وه ی هؤکاری نه خوشیبه کی دیاریکراو
- B- پیکه یانی پیکهاتوویه کی شیوه نه لقه یی
- C- به سته وه ی دژه په یداکه ر به دژه تن
- D- دهره یان نینتەر فیرون

A

وهلامی نمونه یی تاقیکردنه وه گشتیه کانی پؤلی دوازه ی ناماده یی (زانستی) بابهت ی زینلهرزانی
بؤ سالی خویندن 2020 - 2021 (خولی دووم)

#	1	2	3	4	5	6	7	8	9	10	11	12	13	14	15	16	17	18	19	20	21	22	23	24	25	26	27	28	29	30	31	32	33	34	35	36	37	38	39	40	41	42	43	44	45	46	47	48	49	50
A	D	D	C	A	B	C	A	D	D	A	C	C	D	C	C	B	B	A	D	A	C	C	B	C	A	A	A	B	C	C	A	B	B	D	D	A	B	A	D	D	C	A	D	A	B	A	D	B	C	
B	A	D	A	D	D	C	C	D	B	C	D	D	C	A	A	A	D	B	B	D	C	C	A	D	C	D	B	B	C	C	D	B	A	B	B	A	B	A	C	A	A	C	A	A	C	B	A	A	C	D