



وەلامی نمونەیی

سائی خویندنی 2021-2022 (خولی یەكەم)

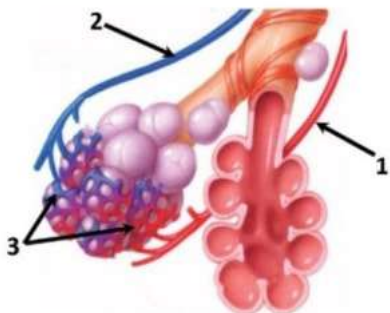
(بۆ هەر پرسیارێك دوو نمرە)

وەلامی راست هەلبژێرە:

1. جیاوازی نیوان ئیسکی پتەو و ئیسکی ئیسفەنجی ئەوویە کە ئیسکی پتەو؟
A- مۆخی زەردی ئیسکی تێدایە B- مۆخی سووری ئیسکی تێدایە
C- مۆخی سەفەڵی ئیسکی تێدایە D- مۆخی سەفەڵی ئیسکی تێدایە
2. کام لە مانە دەرباری دروستبوونی ئیسک هە ئەیه :-
A- ئیسکە خانەکان لە مانگی سییەمەوه دەست بە دروستبوون دەکەن
B- زۆربەیی ئیسکەکان دروستبوونیان بە کرکراگە دەست پێدەکات
C- ئە کۆتایی کرداری دروستبوونی ئیسکدا ، هەموو کرکراگە کۆرپە ئەیی ئە هەموو بەشەکانی ئەشدا بە ئیسک دەگۆردرێتەوه
D- هەندیک لە بەشەکانی کە لەلای سەر راستەوخۆ بە شیوی ئیسکی رەق دروست دەبن
3. کام لەم جووتانەی دێن لە هەمان ناستی ریکخستنی ئەش نین؟
A- جگەر و پەنکریاس B- چەوریە خانە و ماسولکە ریشال
C- خوین و ژێ D- کرکراگە و پیست
4. خالەکانی بنەچە و جیبەست پەییووندی بە وه هەیه.
A- پەیکەرە ماسولکە B- ئوسە ماسولکە C- دڵە ماسولکە D- پەیکەرە ماسولکە و دڵە ماسولکە
5. هیزی کرژبوونی ماسولکە بە ژمارەیی ئەو دیاریدەکرێت کە ناگادار دەکرێتەوه.
A- ماسولکە ریشالوچکانە B- پارچە ماسولکانە C- ماسولکە ریشالانە D- دەزوو ئەستورەکانی مایوسین
6. کام لەم جومگانە ئە تەوهره پەیکەرە هەیه؟
A- جومگە جووتە سنوردارەکان B- جومگە نەبزیوکان C- جومگە بزێوکان D- هەموو وەلامەکان راستن
7. کام لەم زمانانەی خواروهره رێگری ئە خوینی کەم نۆکسجین دەکەن بە ناراستەیی هە ئەدا بگەرێتەوه؟
A- زمانەیی کەوانەیی راست و زمانەیی کەوانەیی چەپ
B- زمانەیی دوو پەرەیی و زمانەیی سی پەرەیی
C- زمانەیی کەوانەیی راست و زمانەیی سی پەرەیی
D- زمانەیی کەوانەیی چەپ و زمانەیی دوو پەرەیی
8. رۆئی پەرەکانی خوین ئە کرداری خوین مەییندا بریتییه لەوهی کە :-
A- تۆرێک پیکدین کە خرۆکە سپییەکانی خوین گل دەداتەوه
B- کە ئە دەبن و پیکەوه دەنوسین و دەمەوانەیی بچوک دروست دەکەن ئە شونیی درانی لۆولە خوینەکە
C- ئە نزیهەکان دەردەدەن کە کۆمە ئە کارلیکە کیمیاییە دوابە دواکانی کرداری مەیین وریادەکەنەوه
D- هەردووکیان راستن
9. کام لە مانە ئە پیکەتەیی خوینەییەکان و خوینەریکان هەن؟
A- خانەکانی لوسە ماسولکە B- خانەکانی رووکەشە شانە C- بەستەرە شانە D- هەموو وەلامەکان راستن
10. ئەگەر کۆمە ئەیی خوینی کەسیک ئە پلازماکەیدا دژتەن ئەنەها بۆ دژە پەیداکەری B هەبیت و توانای دروستکردنی دژە تەن بۆ دژە پەیداکەری Rh هەبیت، ئەوا ئەو کەسە دەتوانیت خوین بێهەشی بە کەسیک کە کۆمە ئەیی خوینەکەیی بیت.
A- B⁻ B- A⁺ C- O⁺ D- O⁻

11. شیوهکەیی بەرامبەر روونیدەکاتەوه دوو لۆولەیی خوین ئە مروڤدا 1, 2 بەیه کەدەگەن بە تۆپە ئییک

لە موولولەیی خوین 3 ، کام لە مانە ناراستەیی گواستنهوی خوین بە تەواوی دەنوینیت؟



- 1-A 2 ← 3
- 2-B 3 ← 1 ← 2
- 1-C 2 ← 3 ← 1
- 2-D 1 ← 3 ← 2

12. پیست بەرگری هۆکارەکانی ئە خوشی دەکات ئە رێگەیی :-

- A- بەرهمهینانی دژتەنەکان B- بەکارهینانی کیمییکە بەرگریهەکان C- کارکردن بە شیوی بەرەست D- هەردووکیان راستن
- 13. کام لە مانە دەرباری جیاپەبوونەوه بازدان راستە؟
A- جۆریکە ئە پنتە بازدان B- روودەدات چونکە کرۆمۆسۆمیکی دیاریکراو ئە هاوتاکەیی خۆی جیاپەبیتەوه ئە کاتی دەزوو دابەشبووندا
C- ئەو جۆره بازدانە دەبیتە هۆی ئەوهی کە کەسیکی دیاریکراو سی کرۆمۆسۆمی 18 وەرگیری و دیاردەیی داون پەیدا بکات
D- ئەم جۆره بازدانەدا گەمیتەکان کرۆمۆسۆمیکی زیاتر یان کرۆمۆسۆمیکی کەمتر ئە کرۆمۆسۆمە دیاریکراوەکان وەرەگرن
- 14. هەموو ئەمانەیی دێن دەرباری لیمفەخانەیی T ژەهراوی و لیمفەخانەیی T یاریدەدەر راستن جگە ئەوهی هەردووکیان :-
A- ئە مۆخی ئیسک پەیدا دەبن و ئە تاشیمۆسە رژین گەشەیان تەواودەکەن
B- ئینتەرلۆکینی 2 دەردەدەن
C- بەشدارن (رۆئیان هەیه) ئە وەلامدانەوه بەرگریهەکانی خانەیی.
D- وەرگری پرۆتینی ئەسەر رووهکەییان هەیه

15. گۆچکه كان كه چه ژه گۆچكه كان له نيوانياندا هه ن دهكهونه :-

D- هه موو ولامه كان راستن

C- بنميجي دم

B- گه روو

A- سه زمان

16. كام له مانه روخساره بابته تي مام ناوهنده له نيوان دوو روخساره بابته ته كه ي باوان ؟

D- بي كلك له پشيله دا

C- كلك كورت له پشيله دا

B- قزى لوول له لاي هه فقاسيه كان

17. له وه لامدانه وه هه وكردنه كاندا مادده ي هه ستامين :-

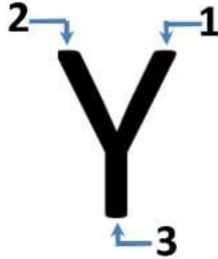
B- ليمفه خانه كان بو ناوچه تووشبووه كه كيش دهكات

A- ورژمى خوئين به رهو ناوچه تووشبووه كه زياد دهكات

D- (B + A) هه ردووكيان راستن

C- مه ييني خوئين پيكد هه نييت بو داخستنى لووله خوينه پچراوه كه.

18. دژه ته نه كان گه رده كانيان له شيوه ي بيتى Y دان وه كه له شيوه ي به رامبه ردا دياره ، له كام شويى



نهم گه رده وه رگر هه يه كه له وان هه دژه په يداكه ريكي ديارى كراوى پيوه به ستريت ؟

A- 2 , 1

B- 3 , 2

C- 3 , 1

D- 3 , 2 , 1

B- زوربه يان ده بنه بير خه ره وه خانه
D- (C + B) هه ردووكيان راستن

A- سايتوكيى يه كه م زوربوونه كه ي چلاك دهكات
C- له مؤخى نيسك دا گه شيان ته واو دهكهن

19. ليمفه خانه كانى B :

20. كام له م رووداوانه راستن كاتيك قايروسى HIV ده چيته ناو خانه ي هه لئوشينه ره گه وه كان ؟

(1- قايروسه كه دوو هيند ده بيت ، 2- قايروسه كه دوو هيند نابيت ، 3- بازدانى زور له قايروسه كه دا روودات ، 4- بازدان له قايروسه كه دا روونادات ، 5- قايروسه كه خانه ي هه لئوشينه ره گه وه ده كوژيت ، 6- قايروسه كه خانه ي هه لئوشينه ره گه وه ناكوژيت

D- 5 , 4 , 2

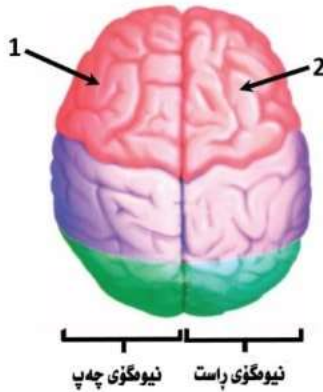
C- 6 , 3 , 2

B- 6 , 3 , 1

A- 5 , 4 , 1

21. نهو شيوه ي به رامبه ردا هه ردوو نيوه گوى راست وچه پى ميشكى كه سيكى ناسايى (چه په نه بيت)

پيشاندهات ، به پشت به ستن به م شيوه ي وه لامى راست لهو خشته يه ي خواره وه هه لئيريه :-



نيومگوى راست نيومگوى چه پ

	نهو ناوهنده ي كه دست دهگن به سه ر	نهو ناوهنده ي كونترولى دووان دهكات لهو به شه ي
A	نيوه گوى راستى ميشكه وه	ميشكدا هه يه كه نامازى پيكراره به رنوسى :-
B	نيوه گوى چه پى ميشكه وه	
C	نيوه گوى چه پى ميشكه وه	
D	نيوه گوى راستى ميشكه وه	

22. نهو كاته ي كوكانين كاره كاته سه ر كاري وه رگره كانى دووباره مژينه وه له دهماره خانه ي پيش گه يينكه :-

A- ناگادار كرده ومى دهماره خانه ي دواى گه يينكه زياد دهكات B- ژماره ي وه رگره پروتئينه كان له په رده ي خانه ي پاش گه يينكه زياد دهكات

C- برى دهماره گويزه ره وه له گه يينكه قليشدا كه م دهكات D- ژماره ي وه رگره كانى دووباره له په رده ي خانه ي پيش گه يينكه كه م دهكات

23. ميشكوله به ريكه وتن له گه ل كاره كاته بو ريكخستنى په يكه ره ماسولكه كان.

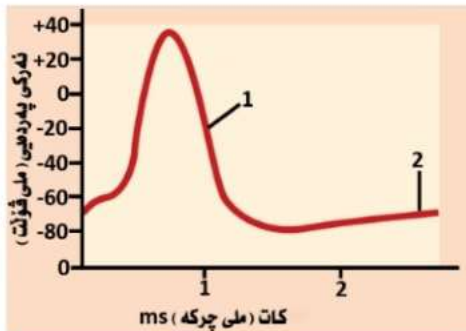
B- قه دى دهماخ و نيوانه دهماخ

A- قه دى دهماخ و تويكلى ميشك

D- نيوانه دهماخ و تويكلى ميشك

C- ناوه راسته دهماخ و نيوانه دهماخ

24. به پشت به ستن بهو شيوه ي به رامبه ردا وه لامى راست له خشته ي خواره وه هه لئيريه :-



جۆگه كانى	جۆگه كانى	جۆگه كانى
نايۆنى پۆتاسيۆم	نايۆنى سۆديۆم	جۆگه كانى
دهمكرينه وه	داده خرين	له و ماوه يه كه به رنوسى 1 نامازى پيكراره
هه موويان	كراون	له و ماوه يه كه به رنوسى 2 نامازى پيكراره
داده خرين	كراون	جۆگه كانى
داده خرين	دهمكرينه وه	نايۆنى پۆتاسيۆم
هه موويان	داخراون	له و ماوه يه كه به رنوسى 1 نامازى پيكراره
دهمكرينه وه	داخراون	له و ماوه يه كه به رنوسى 2 نامازى پيكراره

جۆگه كانى	جۆگه كانى	جۆگه كانى
نايۆنى پۆتاسيۆم	نايۆنى سۆديۆم	جۆگه كانى
دهمكرينه وه	داده خرين	له و ماوه يه كه به رنوسى 1 نامازى پيكراره
دهمكرينه وه	داخراون	له و ماوه يه كه به رنوسى 2 نامازى پيكراره
دهمكرينه وه	داخراون	جۆگه كانى
دهمكرينه وه	دهمكرينه وه	نايۆنى پۆتاسيۆم
دهمكرينه وه	كراون	له و ماوه يه كه به رنوسى 1 نامازى پيكراره
دهمكرينه وه	كراون	له و ماوه يه كه به رنوسى 2 نامازى پيكراره

25. ھەممۇ ئەمانە پېئوستىن بۇ مىكانىزىمى كاركردىنى زۆرەي ھۆرمۇنە پېئىتىدىيەكان جگە لەوھى :-

A- بگاٹە خانەي ئاما نچەكەي

C- نامەكەي بە پەردەي خانەدا تېپەپرېت

D- بېسەرتېت بە وەرگى پىرۇتىنەوہ

26. كام لەمانە وەكو ھۆرمۇنەكان پۇلىن دەكرىن و فرمانى وەستاندىنى گواستىنەوھى راگەيانىدەكانى ئازارە بەرەو دەماخ؟

A- ئىنكىفالىن

B- نەسىتامىنۇفىن

C- نەسپىرىن

D- ھەممۇ وەلامەكان راستن

27. كام لەمانە بەشدارە لە بەرھەمەينانى تۇواو؟

A- تۇواوہ چىكلدانهكان

B- لوولەي گۆيزەرەوہ

C- تۇوہ بۇرىچكە

D- (C + A) ھەردووكيان راستن

28. ژىر مىشكە رژىن كارىگەرى لەسەر ھەممۇ ئەمانە ھەيە لە رىگاي دەردانى ھۆرمۇنەكان جگە لە :-

A- دووبارە مژىنەوھى ئاو لە گورچىلەكان

C- فراوانبۇونى بۇرىچكەكانى ھەواو ھەردوو بىلبىلەي چاو

B- دەردانى توخمە ھۆرمۇنەكان لە لايەن رژىنەكانى زاوژى

D- ورتىمكردىنى شىر لە مەمك لە كاتى شىر پىيدان

29. كام لەمانە دەربارى تەوہرى دەمارەخانە راستە؟

A- تەوہرى ھەممۇ دەمارە خانەيەك بە بەرگى مايلىنى دا پۇشاوہ

C- تەوہرى ئەو دەمارە خانانەي كە لە دەماخ يان دېرگە پەتكدا نىن بە خانەي شوان دەورەدراون

D- تەنھا تەوہرى ئەو دەمارە خانانەي كە لە دەماخ يان دېرگە پەتكدا نىن بە بەرگى مايلىنى دا پۇشاوون

30. كام لەمانە دەربارى رژىنەكانى پاراٹايرۇيد ھەلەيە؟

A- ژمارەيان چوار رژىنە دەچەقنە لاي پشەوہى شاپرۇيدە رژىن دوو لە ھەر پلىكدان

C- ژمارەيان دوو رژىنە دەچەقنە لاي پشەوہى شاپرۇيدە رژىن يەك لە ھەر پلىكدا

B- ھەموويان ھۆرمۇنى پاراٹايرۇيد دەردەدەن

D- لە كۆپرە رژىنەكانە

31. كام لەمانە بەشيكە لەو رىيازەي كە تۇوہكان دەيگرنە بەر لە كاتى دەرچوونيان لە لەش :-

A- ئالۇزە

B- رژىنى پىرۇستات

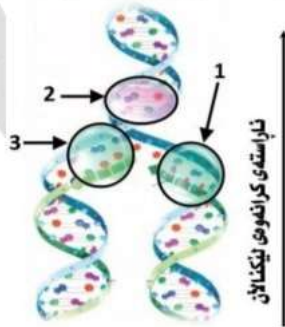
C- جووت رژىنى كۆپەر

D- ھەممۇ وەلامەكان راستن

32. بە پشت بەستن بەم مۇدېلە كە گەردى DNA لە ماوہى دووھىندبووندا دىيارىدەكات،

وہلامى راست لە خشتەي خوارەوہ ھەئبژىرە :-

	3	2	1
A	نەنزىمى پەلمەرى DNA	نەنزىمى ھىلىكىز	نەنزىمى پەلمەرى DNA
B	نەنزىمى بەستەرى DNA	نەنزىمى پەلمەرى DNA	نەنزىمى ھىلىكىز
C	نەنزىمى ھىلىكىز	نەنزىمى پەلمەرى DNA	نەنزىمى بەستەرى DNA
D	نەنزىمى ھىلىكىز	نەنزىمى پەلمەرى DNA	نەنزىمى ھىلىكىز



33. كام لەمانە لە فرمانى چىكلدانه خانەكانە ؟

A- خۇراك بە ھىلكە دەدەن

B- ھۆرمۇنى ئىستىراجىن دەردەدەن

D- (B + A) ھەردووكيان راستن

34. رىزبەندى تەواو بۇ رووداوەكانى گەشە و پەرسەندىنى كۆرپە لە لە ماوہى قۇناغەكانى سىكپىدا دىيارى بگە :

(1- لەشى كۆرپە لە دەتوانىت پارىزگارى لە پەلەي گەرمى چەسپاوى خۇي بگات ، 2- ئىسكە پەيگەر دەست بە دروستبوون دەكات ، 3- پە نچەكان

دروست دەبن ، 4- وىلاش دەست دەكات بە دروستبوون ، 5- دوو چاوو دوو گوى دروست دەبن ، 6- دەماخ و دېرگە پەتك دەست بە دروستبوون دەكەن)

A- 1 ، 2 ، 3 ، 4 ، 5 ، 6 B- 1 ، 4 ، 5 ، 6 ، 2 ، 3 ، 6 C- 1 ، 2 ، 3 ، 5 ، 6 ، 4 D- 2 ، 1 ، 5 ، 3 ، 4 ، 6

35. لە كام لەم لىكدانانەي خوارەوہ پىشېبىنى دەكرىت كە وەچەكانىيان 25% يەك رەگ و زال بن و 25% يەك رەگ و بەزىو بن ؟

A- تاكە دوورەگبۇون (دوورەگ × دوورەگ)

B- جووتە دوورەگبۇون (يەك رەگ و بەزىو) بۇ ھەردوو سىفەت (× دوورەگ) بۇ ھەردوو سىفەت

C- تاكە دوورەگبۇون (يەك رەگ و زال × دوورەگ)

D- جووتە دوورەگبۇون (دوورەگ) بۇ ھەردوو سىفەت (× دوورەگ) بۇ ھەردوو سىفەت

36. نەگەر لىكدانىك لە نىوان كەروئىشكىكى موو رەشى بۇماوہ بابەت نادىار لە گەل كەروئىشكىكى موو قئاوہىي نە نجامبدرىت ، كام لە مانە پىشېبىنى دەكرىت روخسارە بابەتى وەچەكان بنوئىت؟

A- 100% موو قئاوہىي دەبن

B- 100% موو رەش دەبن يان 50% موو رەش و 50% موو قئاوہىي دەبن

C- 100% موو رەش دەبن

D- 100% موو قئاوہىي دەبن يان 50% موو رەش و 50% موو قئاوہىي دەبن

B- كۆمەلەكانى خوئىن ABO

A- سىستەمى رىسى (Rh)

37. لە مروقداسى ئەئىل دەستدەگرن بەسەر :-

D- (C + A) ھەردووكيان راستن

C- سى كۆمەلەكەي خوئىنى مروقد M, N, MN

38. كام لەمانە لە تايبە تەندىبەكانى نىشانەي كۇتايى ھاتنە؟

A- كۇتايى وەرگىرانى بۇھىلىكى دىيارىكراو دىيارىدەكات

C- نەنزىمى پەلمەرى DNA ي پىوہ بەند دەبىت

D- (B + A) ھەردووكيان راستن

39. رووى لەيەكچوون لە نىوان رەنگ كۆيرى و شىوازەكانى سەر رووتانەوہ ئەوہىە كە :

A- ھەردووكيان ئاسايى سىفەتى بە توخم بەستراون

B- لە ھەردووكياندا لەوانەيە نىرەو مېيە روخسارەبابەتى جىواوزىان ھەبىت تەنانت ئەگەر ھەمان بۇماوہ بابەتېشيان ھەبىت

C- ھەردووكيان لە نىرەدا زىاتر دەردەكەون بە بەراورد ئەگەل مېيەدا

D- ھەردووكيان ئاسايى لەشەسىفەتن

40. ئەو كەسەي تووشى نە خوشى فينيل كيتونىوريا (PKU) ي بۇماوهي دەبىت ئەو ئەنزيهەي نيبه كه ترشى ئەمىنى :-

A- فينيل ئەلانين دەگوريت بۇ ترشى ئەمىنى لىوسين

C- فينيل ئەلانين دەگوريت بۇ ترشى ئەمىنى تايروسين

D- لىوسين دەگوريت بۇ ترشى ئەمىنى فينيل ئەلانين

41. كاتيك پيئين روونات، ئەو هيلكه يهەي كه شيدەبىتەوه و ئەگەل ناوپۇشه ئەستورەكهەي مندالدىن ئە ريگەي زى ئە سوورى مانگانەدا

دەكرىتە دەرەوه :- A- ئە قۇناغى نامادەيى دابەشبوونى يەكەمى كەمە دابەشبووندايە

C- دابەشبوونى دووهەي كەمە دابەشبوونى تەواوكردووه

42. ئە تاقىكردەنەوه كانى ئاقريدا كام ئەم ئەنزيهەي خوارەوه نە يېيشت گۇران روويدات ؟ ئەنزيهەي :-

A- هەئوشىنەرى DNA B- هەئوشىنەرى پروتين C- هەئوشىنەرى RNA D- هەئوشىنەرى RNA و هەئوشىنەرى پروتين

43. يەكك ئەمانە ئە جياكەرەوه كانى كۇدۇنە : A- كۇدۇنى دەستپىك و كۇدۇنە كانى وەستان ترشه ئەمىنپهەيە كان ديارىناكەن

B- يەك كۇدۇن زياتر ئە يەك ترشى ئەمىنى ديارىدەكات C- كۇدۇنە كان زۇر جار ئە جوړى شەكر ئەگەل يەكدا جياوازن

D- هەندىك ئە ترشه ئەمىنپهەيە كان بە هۇي دوو كۇدۇنى جياوازن زياتر ديارى دەكرين

44. ئەنزيهەي كەرتهكر پيويستە بۇ دەستكەوتنى :-

A- جپهەي نجهى DNA B- پلازميدەكان C- DNA ي دووبارە پىكهااتوو D- (C, A) هەردووكان راستن

45. بە پشت بەستن بەو شپوهيەي بەرامبەر كه پىكهااتەي نيوكليوتايديك دياردەخات، كام ئەمانە

ئەو تفتە نايترؤجىنپه دەنوئىت كه بە رەنوسى 1 نامازى پىكراوه :-

A- سايئوسين

B- ئەدينين

C- ثايمين

D- هەموو وەلامەكان راستن

46. ئەتەكنىكى جياكردنەوهي كارەبايى جەلاتىنى دا :-

A- دريژترين پارچەي DNA ي بارگە نيگەتيف نزيكتر دەبىت ئە جەمسەرى پۇزەتيفى جەلاتىنەكەوه

B- كورترين پارچەي DNA ي بارگە نيگەتيف نزيكتر دەبىت ئە جەمسەرى پۇزەتيفى جەلاتىنەكەوه

C- كورترين پارچەي DNA ي بارگە پۇزەتيف نزيكتر دەبىت ئە جەمسەرى نيگەتيفى جەلاتىنەكەوه

D- دريژترين پارچەي DNA ي بارگە پۇزەتيف نزيكتر دەبىت ئە جەمسەرى نيگەتيفى جەلاتىنەكەوه

47. بە پشت بەستن بەم تۆمارى رەچەئەكى بەرامبەر كه تاكىكى تووشبوو بە نە خوشى

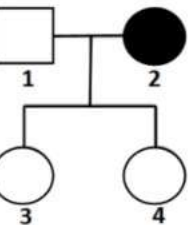
خوينبەر بوون (هيموفىليا) دەرەخات، كام تاكيان پيويستە هەلگر بىت؟

A- 1, 4

B- 3, 4

C- تەنها 3

D- تەنها 4



48. ئە رووهكى پۆلكەدا روخسارى گول تەوهرەي (A) زائە بەسەر روخسارى گول لوتكەيى (a) وە روخسارى كەلوو هەئناوساو (I) زائە

بەسەر روخسارى كەلوو كەمەرەيەكهااتوو (i)، زانابهك ليكدانپكى بەجپهينا ئە نيوان دوو رووهكى پۆلكەي بۇماوهبابەت ناديار ئەم ريژەيان لى

پەيدا بوو (3 رووهكى گول تەوهرەي كەلوو هەئناوساو: 3 رووهكى گول تەوهرەي كەلوو كەمەرەيەكهااتوو: 1 رووهكى گول لوتكەيى كەلوو

هەئناوساو: 1 رووهكى گول لوتكەيى كەلوو كەمەرەيەكهااتوو) ئەوا كام ئەمانە بۇماوه بابەتى هەردوو رووهكه ناديارەكه دەنوئىت ؟

Aali x aali - A Aali x Aaai - C Aali x aaii - B Aali x Aali - D

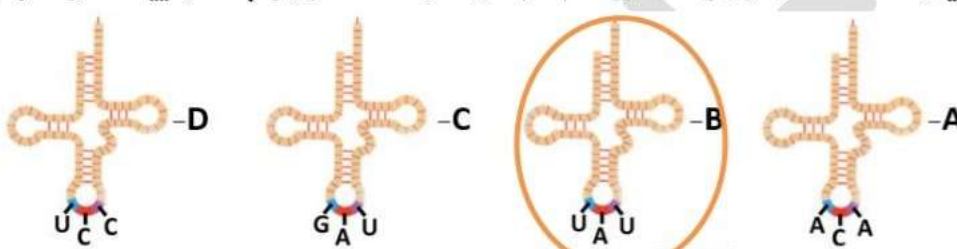
49. ئەگەر بزانيت ريژەي پەرينەوه ئە نيوان هەردوو بۇهيلي Y, Z دەگاتە 15% وە ريژەي پەرينەوه ئە نيوان هەردوو بۇهيلي X, Z دەگاتە 10% وە

ريژەي پەرينەوه ئە نيوان هەردوو بۇهيلي W, Z دەگاتە 6% وە هەردوو بۇهيلي X, W دەكەونە نيوان هەردوو بۇهيلي Y, Z, كام ئەمانەي خوارەوه

كەمترين ئەگەريان هەيە بۇروودانى پەرينەوه؟ Y, X - A X, W - B Z, Y - C Z, W - D

50. بە پشت بەستن بە بەشپكى ئەو بۇماوه پەرنهەيەي كه ئە خشتەي خوارەودا هاتووە كام ئەم گەردانەي tRNA خوارەوه بەشدار نيبه ئە دوستكردن

ئەم فرە پيپتيدە (لىوسين، سيستين، ئەرگنن)



لىوسين	سيستين	ئەرگنن
CUU	UGU	AGA
CUC	UGC	AGG
CUA		
CUG		