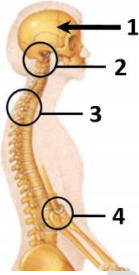




وەلامی راست هە ئێرێرە :- (بۆ هەر پرسبارێک دوو نمرە)



1. ئە شیبۆی بەرامبەردا کام جومگە ری بە جووتە یەکی سنوردار دەدات؟

2- A و 3

B- تەنها 1

C- تەنها 3

D- 3 و 4

2. شانەکانی ئیسک و خوین و چەوری نەموونەن بۆ سی جۆر بەستەرە شانە کە خانەکانیان :-

A- بە جۆری جیواوز ئە نیوانە ماددە دەورەدراون. B- ئە برێکی گەورە ماددە نیوان خانەکان نەمۆن بوون.

C- بە هەمان جۆر نیوانە ماددە دەورەدراون. D- (B + A) هەردووکیان راستن.

3. هەموو ئەمانە دەربارە ئیسکی پتەو راستن جگە ئە :-

A- ئە کە نیانی فراوان پیکدیت. B- جۆگە هاقیرسی تیدایە. C- ئیسکە خانەکانی تیدایە. D- ئە نوونە پیکدیت.

4. کام ئەمانە ئە ناو جەمسەری درێژە ئیسکی کە سیک هە یە کاتی کە سە کە دەگاتە بەژنی تەواوی خوی؟

A- مۆخی زەردی ئیسک B- کەرکراگە خانە C- ئیسکی ئیسفەنجی D- (C + A) هەردووکیان راستن

5. د ئە ماسولکە :-

A- خائەکانی بنە چەو جیبەستی هە یە. B- بە شیبۆی جووتی هاودژ کار دەکات.

C- پال بە خوینەو دەنیب بۆ بە شەکانی ئە ش. D- هەموو وەلامەکان راستن.

6. کام ئەمانە دەربارە پیکهاتە ماسولکە راستە؟

A- هەر خانە یە ک ئە خانەکانی پەیکەرە ماسولکە بە بەستەرە شانە یە ک دا پۆشراو.

B- کۆمە ئیک گورزە ماسولکە کە دەورەدراون بە بەستەرە شانە یە ک، پەیکەرە ماسولکە پیکدینن.

C- هەر خانە یە ک ئە خانەکانی ئوسە ماسولکە بە بەستەرە شانە یە ک دەورەدراو. D- هەموو وەلامەکان راستن.

7. د ئە نوونە کۆنە ندام :-

A- ئە دل و نوونەکانی خوین و لیمفە گری پیکدیت. B- یە کیک ئە فرمانەکانی گیرانەو ی شلە ی شانە ییە بۆ خوین.

C- بە شیکە ئە کۆنە ندامی سوران. D- ئە ریکە یەو دەو شلە دەگوازیتەو.

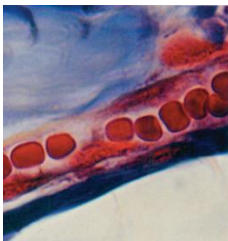
8. ئە شیبۆی بەرامبەردا ئەو نوونە خوینە ی دیارە دەنوینیت.

A- خوینبەر

B- خوینبێنەر

C- موونوولە ی خوین

D- لیمفە نوونە



9. بۆ ریکرتن ئە روودانی باری شیبوو نەو ی خرۆکە سوورەکانی کۆرپە ئە یی ، دایکی نیگە تیشی دووگیان بە مندالی پۆزە تیش دەرزنی دژە تەن بۆ

(Rh) ی لیدەدریت بۆ ئە ناو بردنی :- A- هەر خانە یە ک پۆزە تیش کە ئە وانە یە ئە خوینی کۆرپە ئەو دەزە کردبیتە خوینی دایکەو.

B- هەموو دژە تەنەکانی ناو پلازما ی خوینی دایک. C- هەموو دژە پەیدا کەرەکانی سەر رووی خرۆکە سوورەکانی دایک.

D- هەر خانە یە ک نیگە تیش کە ئە وانە یە ئە خوینی دایکەو دەزە کردبیتە خوینی کۆرپە ئە.

10. ئە کاتی بەرزبوونەو ی خەستی گازی دووم ئوکسیدی کاربۆن ئە خویندا کام ئەمانە ناو پەنجک وریادە کاتەو بۆ بەرزکردنەو ی تیکرای

هەناسەدان و زیادبوونی قوونییە کە ی؟

A- قەدی دەماخ B- لاناك C- نیوانە دەماخ D- ژیرلاناك

11. کام ئەمانە دەربارە هیمۆگلوبین راستە؟

A- ئە کرداری هەناسەدا تەنها گازی ئوکسجین دەگوازیتەو. B- ئە پرۆتینی ک و چوار گەردیلە ی ناسن پیک دیت.

C- ئە کرداری هەناسەدا هەردوو گازی ئوکسجین و دوانوکسیدی کاربۆن دەگوازیتەو. D- (C + B) هەردووکیان راستن.

12. كام لەمانە دەربارەى خويىنى گەراوە ئە كۆنەندامە سورەووە بۆ دڵ هەلەبە؟

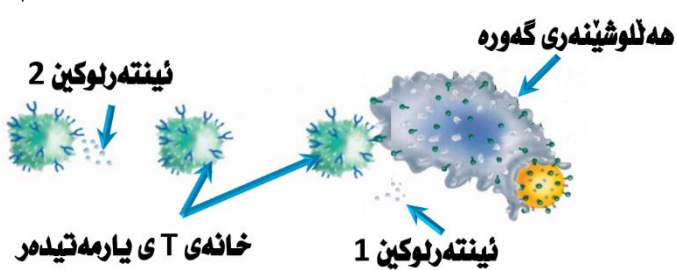
- A- تەنھا لەرېگەى كلۆرە خويىنەنەرى خواروووە دەگوازىتەووە.
 B- خويىنىكى كەم ئوكسىجىنە.
 C- لەرېگەى كلۆرە خويىنەنەرى سەروو و كلۆرە خويىنەنەرى خواروووە دەگوازىتەووە.
 D- دەچىتە گويچە ئەى راست.

13. چەورى : پىست

- A- لىنجە ماددە : پىست
 B- ئارەقە : لىنجە پەردەكان
 C- ئەنزىمى لايسوزىم : پىست
 D- ماددەى مېوى : لىنجە پەردەكان

14. ئە وەلامدانەووە هەوكردەكان كام لەمانە هىستامىن دەردەدات؟

- A- هەندىك خانەى تىكشكاو بە هوى پىچرانى پىست.
 B- خرۆكە سپىبە هاوتاكان
 C- هەلئوشىنەرى گەورە
 D- هەموو وەلامەكان راستن.

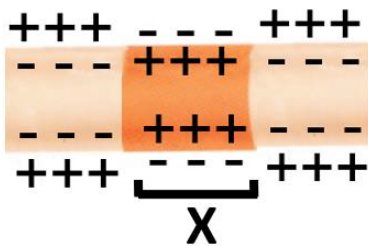


15. ئەو شىوەى بەرامبەر چەند هەنگاوىكى بەرگرىبە وەلامدانەووە پيشاندەدات، ئەم هەنگاوانە پىويست بۆ:-

- A- دروست بوونى بىرخەرەووە خانەكان بۆ جارى يەكەم.
 B- وەلامدانەووە بەرگرىبەكانى خانەى
 C- وەلامدانەووەى گەرمى
 D- (A + B) هەردووکیان راستن.

16. كام لەمانە ئە بەرگرىبە ئەندامەكان؟

- A- مۆخى ئىسك
 B- ئایمۆسە رزىن
 C- ئىمفە گرېبەكان
 D- هەموو وەلامەكان راستن.
 17. خاى هاوبەش ئە نىوان چوونە ژورەووى قايرۆسى HIV بۆ ناو خانەى هەلئوشىنەرى گەورە ئەگەل چوونە ژورەووى قايرۆسى HIV بۆ ناو خانەى T يارمەتيدەر ئەو وەبە كە :-
 A- قايرۆسى HIV هەردوو خانەكە دەكوژىت.
 B- قايرۆسى HIV ئە ناو هەردوو خانەكەدا دووھىند دەبىت.
 C- قايرۆسى HIV پىويستى بە هەمان جۆر وەرگرە هاوئەل هەبە.
 D- (C+B) هەردووکیان راستن.



18. كام لەمانە دەربارەى ئەو ناوچەى تەوهرەى دەمارە خانە كە

- ئە شىوەى بەرامبەردا بە پىستى X ناماژەى پىكراووە راستە؟
 A- پىروتىنە بارگە نىگە تىقەكان و روژوم دەكەنە دەروەى دەمارە خانە.
 B- ئايۆنەكانى سوڊىوم و روژوم دەكەنە ناوہووى دەمارە خانە.
 C- ئەركى پەردەى دەگاتە نزىكەى +40 مىلى قووت.
 D- (C + B) هەردووکیان راستن.

19. خانەكانى شوان مايلىن دروست دەكەن ئە دەورى تەوهرەى ئەو دەمارە خانەى كە ئە :-

- A- دەماخدا هەن.
 B- درپە پەتكدا هەن.
 C- دەماخ و درپە پەتكدا هەن.
 D- دەماخ بىان درپە پەتكدا نىن.
 20. كام لەمانە هەلەبە دەربارەى دەمارە راگەياندن؟
 A- بە دوو ئاراستەى جىواوز (پىچەوانە) دەگوازىتەووە ئە درپە دەمارەكاندا.
 B- خىراى گواستەووەكەيان ئەو تەوهرانەى كە بە مايلىن دەورە دراوون زىاترە ئەو تەوهرانەى كە بە مايلىن دەورە دراوون.
 C- تەنھا بە يەك ئاراستە بە درىژاى تەوهرەى دەمارە خانەدا دەگوازىتەووە.
 D- مېشك و مېشكوئە هەردووکیان :-

- A- بە رووہ ئوچدارەكەيان جىبادەكرىنەووە.
 B- تەنھا ئە تەوهرەى بى مايلىنى پىكدىن.
 C- ئە دوو نىوہگو پىكدىن و هەرنىوہگوپەكيش بۆ چوار پل دابەش دەبىت.
 D- ئە دوو نىوہگو پىكدىن كە بە هوى تەنى كائوسەمەوہ پىكەو بەستراون.

22. كام لەمانە بەشيك نىبە ئە گويى ناوہو؟

- A- جۆگەى ئوستاكى
 B- ئولپىچ
 C- كەوانە جۆگەكان
 D- ئەندامى كورتى
 23. كام لەمانە وریاگەرەووە رۇشناىبەكان دەگوون بۆ راگەياندنەكان كە دەماخ بتوانىت لىكيان بداتەووە؟
 A- خانە چىلكەبىبەكان
 B- خانە قوچەكبىبەكان
 C- مووہ خانەكان
 D- (A + B) هەردووکیان راستن

24. كام لەمانە دەربارەى دۆپامىن راستە؟
 A- ماددەىبەكى وەستىنەرە چالاكى ناوہندە كۆنەندامى دەمار زىادەدەكات.
 B- دەمارە گويزەرەووبە ئە لاىەن دەمارە كۆنەندامەووە دەردە پەرىتريت.
 C- ماددەىبەكى وریاگەرەووبە چالاكى ناوہندە كۆنەندامى دەمار. كەم دەكاتەووە.
 D- هەموو وەلامەكان راستن.

25. دەردانى هۆرمۆنەكانى كام ئەم كويزە رزىنانە ئە لاىەن زىر مېشكە رزىنەووە كوئترۆل دەكرىت؟
 A- ئایمۆسە رزىن
 B- رزىنى پەنكرىاس
 C- رزىنى كاژى
 D- ئاىرویدە رزىن

26. كام لىم ھۆرمۇنلارنى گۈۋاھلىق قىلىش ئۈچۈن كالىسىيۇم نىسبەتەن بۇ خۇش تەۋابىق ھاندىلەر؟

A- كالىسىيۇم ئىسپاتى **B- ھۆرمۇن پارا ئايرىۋېلىش** C- مىللىتۇن D- (B + A) ھەردووكىيان راستىن.

27. ئايرىۋېلىش ھۆرمۇنلارنى دەپنە قىلىش ۋە يەنە ئايرىۋېلىش ئۈچۈن قانداق خۇش تەۋابىق ھاندىلەر؟

A- ئە يەك تىرىشى ئۈچۈن گۈۋاھلىق قىلىش. **B- جۈرئەت ئۈچۈن گۈۋاھلىق قىلىش.**

C- تۈۋان ئۈچۈن گۈۋاھلىق قىلىش. **D- تىرىشە چۈشۈرۈش گۈۋاھلىق قىلىش.**

28. كالىسىيۇم ھۆرمۇنلارنى جىۋاھلىق قىلىش ئۈچۈن قانداق خۇش تەۋابىق ھاندىلەر؟

A- ھۆرمۇن بىلەن ۋە جۈرئەت پىرۇتىننىيە ۋە دەپنە سىرتى. **B- ئايرىۋېلىش ھۆرمۇن ۋە جۈرئەت ئۈچۈن گۈۋاھلىق قىلىش.**

C- AMP ئە ئىقتىسادى ۋە ئايرىۋېلىش دوۋم كاردەكتا. **D- ھۆرمۇن پىرۇتىننىيە بىلەن ۋە جۈرئەت ئۈچۈن گۈۋاھلىق قىلىش.**

29. كام لىم ھۆرمۇنلارنى زۆرۈر ئۈچۈن قانداق خۇش تەۋابىق ھاندىلەر؟

A- مېزۇر **B- مىللىتۇن** C- رېئىن پىرۇتىننىيە **D- (C + A) ھەردووكىيان راستىن**

30. ئە ئايرىۋېلىش ھۆرمۇنلارنى زۆرۈر ئۈچۈن قانداق خۇش تەۋابىق ھاندىلەر؟

A- ئايرىۋېلىش ھۆرمۇن ۋە جۈرئەت ئۈچۈن گۈۋاھلىق قىلىش.

C- تۈۋان ۋە جۈرئەت ئۈچۈن گۈۋاھلىق قىلىش.

B- تۈۋان ۋە جۈرئەت ئۈچۈن گۈۋاھلىق قىلىش.

D- ئايرىۋېلىش ھۆرمۇن ۋە جۈرئەت ئۈچۈن گۈۋاھلىق قىلىش.

31. ئايرىۋېلىش ھۆرمۇنلارنى زۆرۈر ئۈچۈن قانداق خۇش تەۋابىق ھاندىلەر؟

A- ھىلىكەدان **B- مىللىتۇن** C- جۈرئەت ئۈچۈن گۈۋاھلىق قىلىش. **D- زۆرۈر ئۈچۈن گۈۋاھلىق قىلىش.**

32. ئە قانداق خۇش تەۋابىق ھاندىلەر ھۆرمۇنلارنى زۆرۈر ئۈچۈن قانداق خۇش تەۋابىق ھاندىلەر؟

A- ئايرىۋېلىش ھۆرمۇن، پەرىزە پىدائە ۋە نەرىنى.

C- پىرۇجىسترون، پەرىزە پىدائە ۋە نەرىنى.

B- ئايرىۋېلىش ھۆرمۇن، پەرىزە پىدائە ۋە نەرىنى.

D- پىرۇجىسترون، پەرىزە پىدائە ۋە نەرىنى.

33. ئە كام لىم ماۋاھلىق سىڭىرىش كەندە ماۋاھلىق ۋە نەرىنى؟

A- سەرتەن سىڭىرىش يەكەم **B- نىۋە كۆتۈرۈش سىڭىرىش يەكەم** C- سىڭىرىش دوۋم **D- سىڭىرىش سىڭىرىش**

34. ئە گۈۋاھلىق قىلىش چىن كە بەسەر مىللىتۇن دىن دۈۋاھلىق قىلىش؟

A- ھەردوۋ سى مىللىتۇن ئە دىككەشەن.

C- كۆنەندە دەرھال ئۈچۈن كەرا دەپنە.

B- دىن سىڭىرىش سۈر ۋە گۈۋاھلىق قىلىش سۈر تەۋا دەپنە.

D- ھەممۇ ۋەلا مەكان راستىن.

35. كام لىم ھۆرمۇنلارنى زۆرۈر ئۈچۈن قانداق خۇش تەۋابىق ھاندىلەر؟

A- ھەممۇ تاكەكانى ۋە چەي باۋان يەكەم بون.

C- 25% ئە تاكەكانى ۋە چەي دوۋم يەكەم بون.

B- ھەممۇ تاكەكانى ۋە چەي دوۋم يەكەم ۋە چەي دوۋم؟

D- 25% ئە تاكەكانى ۋە چەي يەكەم دوۋم بون.

36. ئە بۇ ماۋاھلىق تەي كە گە مېتى (AB) بەرپەزە 50% پەيدا دەكتا بەۋە جىدە كىرەتەۋە كە؟

A- يەكەم بۇ ھەردوۋ سىڭىرىش.

B- دوۋم بۇ ھەردوۋ سىڭىرىش.

C- دوۋم بۇ سىڭىرىش ۋە زالى يەكەم بۇ سىڭىرىش تەكەي تىر.

37. ئە گەر ئىكەننىك ئە نىۋان تاكىكى دوۋم بۇ روۋخسارىكى دىارىكرا ئە گەل تاكىكى بەزىو بۇ ھەمان روۋخسار بىرئىت، ھەممۇ ئەۋەكان؟

A- يەك جۇر روۋخسار بەبە تىيان دەپنە.

C- دوۋ روۋخسار بەبە تى جىۋاۋزىيان دەپنە.

B- يەك جۇر بۇ ماۋاھلىق تىيان دەپنە.

D- سى بۇ ماۋاھلىق بەبە تى جىۋاۋزىيان دەپنە.

38. كام لىم ھۆرمۇنلارنى زۆرۈر ئۈچۈن قانداق خۇش تەۋابىق ھاندىلەر؟

A- ھىچ كام ئە ئە ئىلەكان زالى يان بەزىو نابىن.

C- تاكى دوۋم روۋخسار بەبە تىكى ئە نىۋان دوۋ روۋخسارى ھاۋدژى يەكەم گدا دەپنە.

D- ئە ھاۋزىل بوندا روۋخسار بەبە تى روۋەكە زالى يەكەم ۋە دوۋم گەكان ھەمان روۋخسار بەبە تى دەپنە.

39. بۇ دىارىكەندى بۇ ماۋاھلىق تەي كام لىم ھۆرمۇنلارنى زۆرۈر ئۈچۈن قانداق خۇش تەۋابىق ھاندىلەر؟



A- (روۋى تۆۋ)

B- (شېۋەي كە لوۋ)

C- (رەنگى تۆۋ)

D- (رەنگى كە لوۋ)

40. ئە ئىكەننىك ئە نىۋان دوۋ روۋەكى پۈلكە كە يەكەم كە ئاۋاۋ گۈل ئوتكەي ئە گەل يەكەم دىكەي كە ئاۋاۋ ھە ئاۋاۋ گۈل تەۋەرىي 640 روۋەك پەيدا بون، 80 روۋەكىيان كە ئاۋاۋ كە مەرىيە كە ئاۋاۋ گۈل ئوتكەي بون، ژمارەي ئەۋە روۋەكانەي كە چاۋەرواندە كىرەت كە ئاۋاۋ كە مەرىيە كە ئاۋاۋ گۈل تەۋەرىي بىن چەندە؟

320 - D

240 - C

200 - B

80 - A

41. نەگەر نە چەند تاقىكردنه وه يەك نە سەر رووهكى پۆلكەدا 6,022 جار رووخسارى تۆو لئوس پەيدا بوو و رووخسارى تۆو چرچ 2,001 جار پەيدا بوو نەوا كام نەمانە نەگەرى دەرکەوتنى رووخساره زانەكە بە ریزەى سەدى نیشاندهادات؟

- 0% -A 25% -B 50% -C 75% -D

42. نە کردارى دووهیند بوونی DNA دا: -A هیچ هەئەیهك روونادات چونكە کردارەكە زۆر بە وردى جیبە جیبەكریت.

- B-هەئە روودهات و زۆر بە زۆریان چاكسازى دەرکرىن ، بەلام هەندىك هەئە ناتوانرىت چاكسازى بكرىت و دەبیتە هوى بازدان .
C-هەئە تەنها نە زنجیرهى بنەرەتى روودهات .

D-هەئە روودهات بەلام هەموو هەئەكان چاكسازى دەرکرىن نە لایەن نەنزىمى پەئەمەرەى DNA .

43. گرىفس نە چوار تاقىكردنه وهكەيدا بوى دەرکەوت كە خانەكانى بەكترىاى توندرەو (S) كە بەگەرمى كوژرابوون بوماوه هوكارىكیان نە ناو.....بەرەلاكرد .كە بووه هوى گواستنهوهى تواناى تووشكردن بە نە خوشى .

- A- خانەكانى مشك كە بەگەرمى كوژراون .
B- خانەى بەكترىاى توندرەوى (S) زىندوو .

D- خانەى بەكترىاى بىزىانى (R) كە بە گەرمى كوژراون .

44. واتسون و كرىك مۇدىلىكیان بو پىكەتەى.....دروستكرد پىشبارەكەيان نەوهبوو كە پىكەدیت نە دوو زنجیره بە دەوهرى يەكتردا

- لوول دەبن . DNA -A RNA -B RNA و DNA -C mRNA و tRNA -D

45. نە پىكەتەى گەردى DNA دا بەندى هايدروجىنىبەیهكەوه دەبەستىتەوه .

- A- پىورىن و پىورىن B- پرىمىدىن و پرىمىدىن C- پىورىن و پرىمىدىن D- هەموو وەلامەكان راستن .

46. نە زۆر بەى زىندەوه راندا هەیه كە جىاواز دىارىدەكەن .

- A- 20 كۇدۇن ، 64 ترشى نەمىنى B- 64 كۇدۇن ، 20 ترشى نەمىنى

- C- 10 كۇدۇن ، 32 ترشى نەمىنى D- 32 كۇدۇن ، 10 ترشى نەمىنى

47. کردارى نەبەرگرتنهوهى RNA جىاوازه نە کردارى دووهیندبوونی DNA بەوهى نە کردارى نەبەرگرتنهوهى RNA دا: -

A- هەردوو زنجیرهكەى DNA بە تەواوى نە يەك جىادەبنەوه .
B- بەشيك نە هەردوو زنجیرهكەى DNA نە يەكتر جىادەبیتەوه .

C- هەردوو زنجیرهكەى DNA دەبنە قائب .
D- دواى تەوابوونی کردارەكە هەردوو زنجیرهى DNA نە يەكتر نا ئاينەوه .

48. كام نەم رىزبەندانەى خشتەى بەرامبەر درىژترىن زنجیرهى

فرە پىپىتید بەرەمىدىنىت كاتىك وەرگىرانی بو دەرکرىت؟

- 1-A

- 2-B

- 3-C

- 4-D

زنجیره	نەو رىزبەندىبەى mRNA كە وەرگىرانی بو دەرکرىت
1	AUGUCCGCAUAAGGAAAU
2	AUGUUGACCUGAGCAGGCUCA
3	AUGCUCUAGAAGUGCUUCUUGACCGCA
4	AUGGGUCUAUAUUGAACG

49. نە لىكدانى دوو رووهكى پۆلكەدا نەم ریزهیهى نى پەيدا بوو (1 رووهكى قەد درىژ گول نەرخەوانى : 1 قەد درىژ گول سپى : 1 قەد كورت گول نەرخەوانى : 1 قەد كورت گول سپى) ، كام نەمانە دەرکرىت رووخساره بابەتى هەردوو رووهكە لىكدراوهكە بنوینىت؟

A- قەد درىژ گول نەرخەوانى × قەد درىژ گول سپى

C- قەد درىژ گول نەرخەوانى × قەد كورت گول سپى

D- (B و C) هەردووکیان راستن

50. كۇدۇنى دەستپىك و كۇدۇنەكانى وەستان هەردووکیان :-

A- دژەكۇدۇنیان نبیبه .

C- رىزبەندى سى نىكلىوتایدی دىارىكراون نە DNA دا .

B- بەشدارى کردارى وەرگىران دەكەن .

D- ترشى نەمىنى دىارى ناکەن .